


POST 1

HVEM ER JEG?



Jeg har 0 ben
og
jeg har en hat.




A



B



C



POST 2

Hvilken figur er væk?



A




B



C

POST 3

Hvor meget slik har børnene
samlet tilsammen?



POST 4

Skriv dem op i rækkefølge
med den yngste sidst.

224 ÅR



A

214 ÅR



B

142 ÅR



C

412 ÅR



D

421 ÅR



E

124 ÅR



F


POST 5



Hvis den tomme pose skal være den næsttungeste, hvad kan den så veje?



5 kg




17 kg



10 kg



POST 6



$$\text{candy} + \text{candy} + \text{candy} = 9$$

$$\text{ghost} + \text{candy} = 10$$

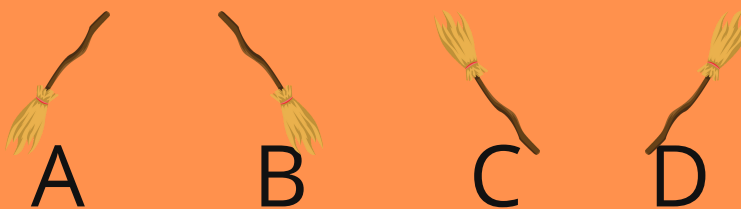

$$\text{broom} - \text{ghost} = 7$$

Hvilken værdi har  ?



POST 7

Hvilken figur er faldet ud?
ud?



POST 8

Hvilke tal skal stå i de
tomme felter?



48

21

C

8

B

14

5

8

6

A

1

2

3

5

1




POST 9

Hvor mange græskar
kan du tælle?



POST 10

Hvilket regnestykke passer
til antallet af ben?:




$8+8$

$3 \cdot 8$

$8-3$

POST 11

Indsæt de rigtige tegn.



$$14 \square_A 10 \square_B 20 = 4$$



POST 12

Hvem har raslet i
længst tid?



120 min

A



3 timer

B



2 timer

C



SVAR

POST 1

Hvem er jeg?

POST 2

Hvilken figur er væk?

POST 3

Hvor meget slik har børnene samlet tilsammen?

POST 4

Skriv dem op i rækkefølge med den yngste sidst.

POST 5

Hvor meget kan posen veje?

POST 6

Hvilken værdi har  ?

POST 7

Hvilken figur er faldet ud?

POST 8

Hvilke tal skal stå i de tomme felter?



A B C

POST 9


Hvor mange græskar kan du tælle?

POST 10

Hvilket regnestykke passer til antallet af ben?

POST 11

Indsæt de rigtige tegn.



A B

POST 12

Hvem har raslet i længst tid?

HALLOWEEN

