

Hvilken tabel kommer tallene fra?




A

Hvilken tabel kommer tallene fra?




B


Hvilken tabel kommer tallene fra?



Hvilken tabel kommer tallene fra?



Hvilken tabel kommer tallene fra?




Hvilken tabel kommer tallene fra?




F

Hvilken tabel kommer tallene fra?




G


Hvilken tabel kommer tallene fra?




Hvilken tabel kommer tallene fra?




Hvilken tabel kommer tallene fra?




Hvilken tabel kommer tallene fra?




Hvilken tabel kommer tallene fra?




Hvilken tabel kommer tallene fra?




Hvilken tabel kommer tallene fra?




Hvilken tabel kommer tallene fra?





Hvilken tabel kommer tallene fra?




Hvilken tabel kommer tallene fra?



Hvilken tabel kommer tallene fra?



Hvilken tabel kommer tallene fra?



QUIZ

Find den rigtige tabel.

A	6 tabellen		3 tabellen		5 tabellen	
B	10 tabellen		2 tabellen		5 tabellen	
C	2 tabellen		7 tabellen		4 tabellen	
D	6 tabellen		8 tabellen		9 tabellen	
E	7 tabellen		3 tabellen		10 tabellen	
F	8 tabellen		4 tabellen		3 tabellen	
G	5 tabellen		7 tabellen		9 tabellen	
H	7 tabellen		3 tabellen		1 tabellen	
J	8 tabellen		6 tabellen		3 tabellen	
K	4 tabellen		3 tabellen		2 tabellen	
L	2 tabellen		6 tabellen		9 tabellen	
M	5 tabellen		10 tabellen		3 tabellen	
N	10 tabellen		6 tabellen		9 tabellen	
O	6 tabellen		4 tabellen		8 tabellen	
P	2 tabellen		3 tabellen		7 tabellen	
Q	10 tabellen		8 tabellen		5 tabellen	
R	6 tabellen		1 tabellen		4 tabellen	
S	3 tabellen		10 tabellen		7 tabellen	
T	5 tabellen		9 tabellen		4 tabellen	

Sæt netop ét **X** i hver række.

Navn _____

QUIZ

LØSNING Find den rigtige tabel. LØSNING

A	6 tabellen		3 tabellen		5 tabellen	
B	10 tabellen		2 tabellen		5 tabellen	
C	2 tabellen		7 tabellen		4 tabellen	
D	6 tabellen		8 tabellen		9 tabellen	
E	7 tabellen		3 tabellen		10 tabellen	
F	8 tabellen		4 tabellen		3 tabellen	
G	5 tabellen		7 tabellen		9 tabellen	
H	7 tabellen		3 tabellen		1 tabellen	
J	8 tabellen		6 tabellen		3 tabellen	
K	4 tabellen		3 tabellen		2 tabellen	
L	2 tabellen		6 tabellen		9 tabellen	
M	5 tabellen		10 tabellen		3 tabellen	
N	10 tabellen		6 tabellen		9 tabellen	
O	6 tabellen		4 tabellen		8 tabellen	
P	2 tabellen		3 tabellen		7 tabellen	
Q	10 tabellen		8 tabellen		5 tabellen	
R	6 tabellen		1 tabellen		4 tabellen	
S	3 tabellen		10 tabellen		7 tabellen	
T	5 tabellen		9 tabellen		4 tabellen	

Sæt netop ét **X** i hver række. **LØSNING**

Navn _____

Vejledning Quiz

Find den rigtige tabel.

Formål:

På opgavekortene er der fem balloner med tal fra tabellerne 1-10.

Eleverne skal finde den tabel tallene kommer fra, og derefter sætte kryds ved den rigtige tabel på svararket. Der kan evt. udleveres en samlet multiplikationstabel til hjælp.

1. Inddel eleverne i mindre grupper på 2-3 elever.
2. Fordel kortene (A-T) i et afgrænset område - inde eller ude.
3. Giv hver elev/gruppe et svarark.
4. Afklar hvornår man er færdig. Har man x antal minutter at arbejde i? Eller er man færdig, når alle opgaver er løst?
5. Lad grupperne arbejde. Det er ikke nødvendigt at løse opgaverne i alfabetisk rækkefølge.
6. Der medfølger et retteark, som kan benyttes til sidst.

Tidsforbrug:

15-45 min

Materialer:

Svar-ark til hver elev

Udprintning af kort (A-T)

Blyanter

Opgave Q2-3kl

