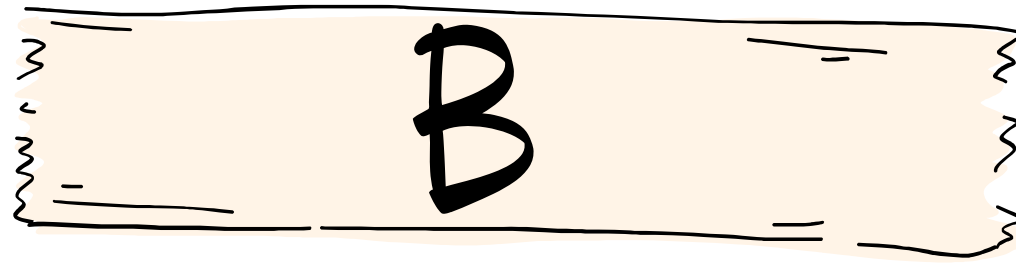


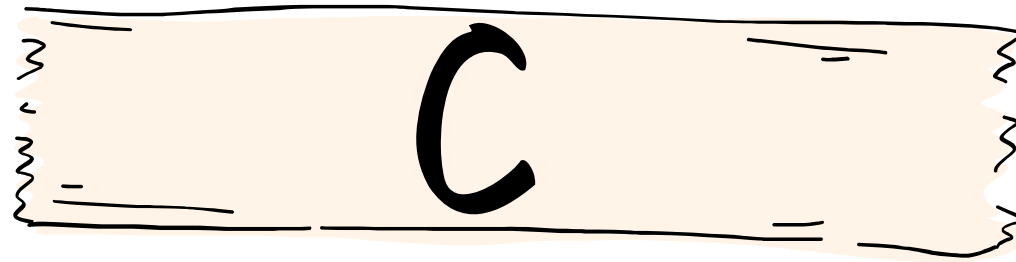
10'er venner og talpar

$$5 + ? = 10$$



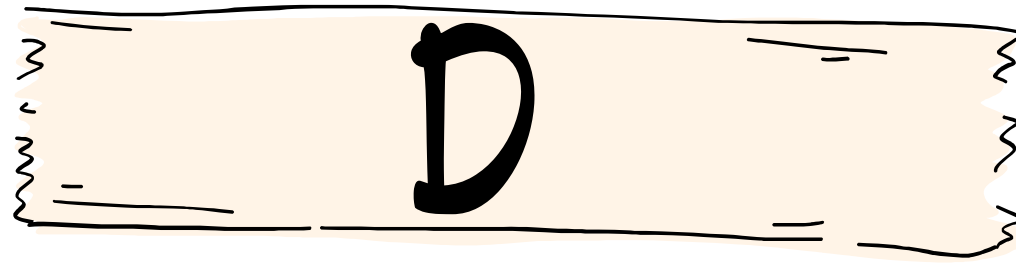
10'er venner og talpar

A math problem presented in a stylized, colorful font. The numbers '6', the plus sign '+', the number '6', the equals sign '=', and the question mark '?' are all rendered in a dark purple color with a light blue outline. The equation is 6 + 6 = ?.



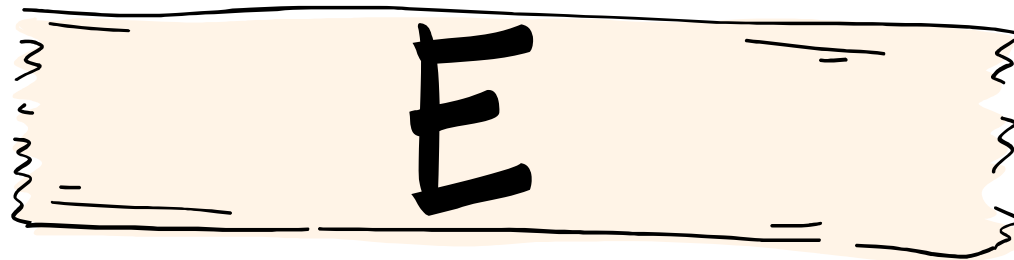
10'er venner og talpar

$$4 + 4 = ?$$




10'er venner og talpar

$$4 + ? = 10$$



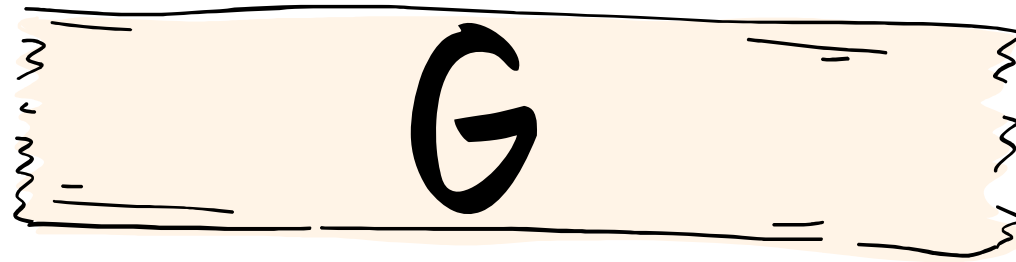
10'er venner og talpar

$$1 + ? = 10$$



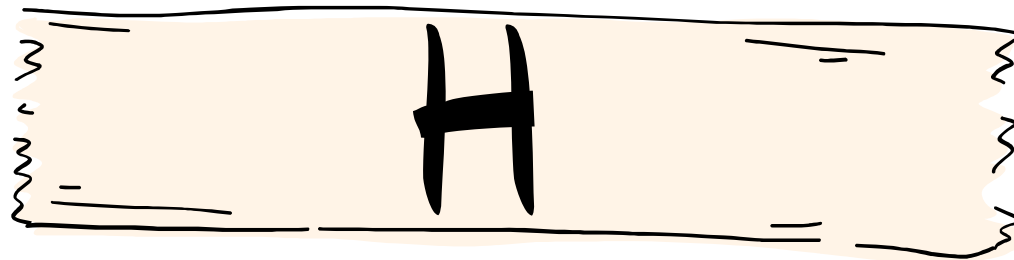
10'er venner og talpar





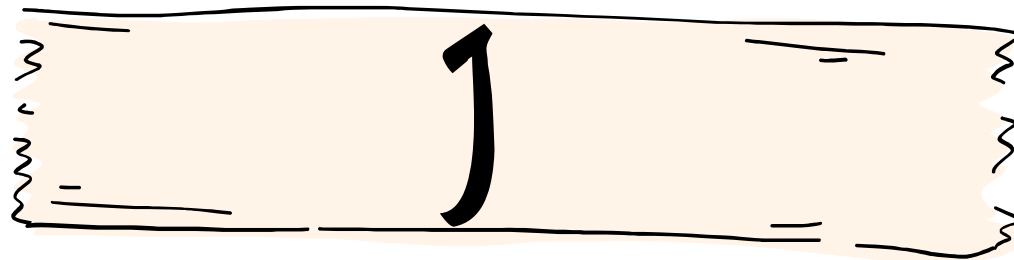
10'er venner og talpar

$$2 + 2 = ?$$




10'er venner og talpar

$$6 + ? = 10$$




10'er venner og talpar

$$7 + ? = 10$$




10'er venner og talpar

$$8 + ? = 10$$



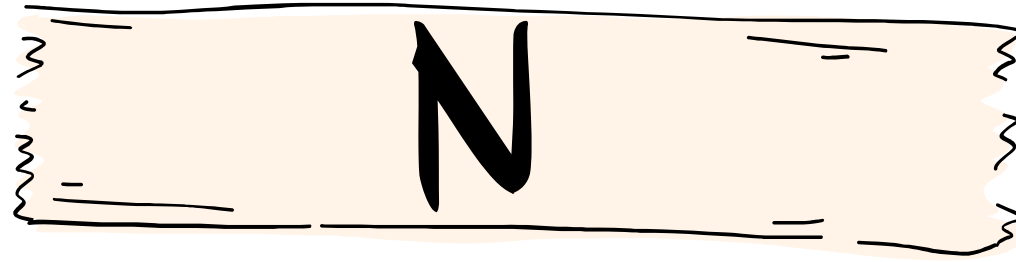
10'er venner og talpar

$$1 + 1 = ?$$



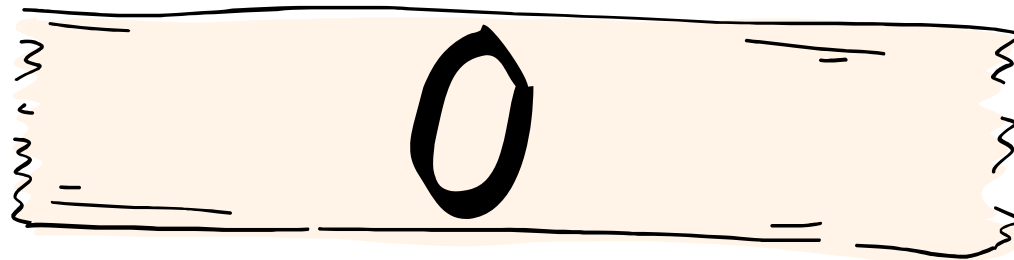
10'er venner og talpar

$$7 + 7 = ?$$




10'er venner og talpar

$$8 + 8 = ?$$




10'er venner og talpar

$$6 + ? = 10$$




10'er venner og talpar

$$7 + ? = 10$$



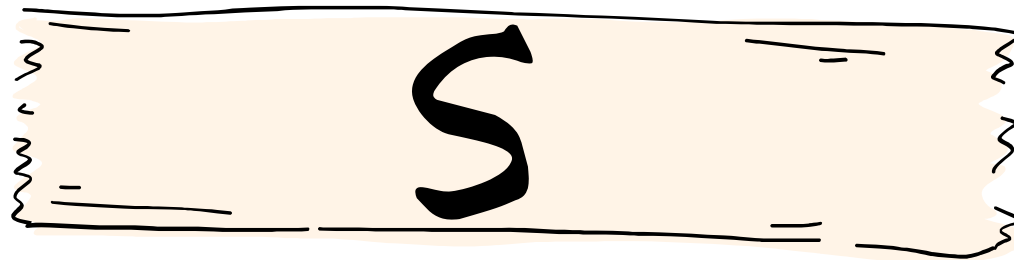
10'er venner og talpar

$$3 + 3 = ?$$




10'er venner og talpar

$$2 + ? = 10$$



10'er venner og talpar

$$9 + ? = 10$$



10'er venner og talpar

$$10 + 10 = ?$$

QUIZ

10'er venner og talpar					
A	?=4		?=5	?=10	
B	?=6		?=10	?=12	
C	?=8		?=9	?=7	
D	?=6		?=10	?=8	
E	?=1		?=8	?=9	
F	?=17		?=18	?=19	
G	?=5		?=8	?=4	
H	?=4		?=5	?=6	
J	?=3		?=2	?=4	
K	?=3		?=2	?=1	
L	?=2		?=3	?=5	
M	?=13		?=12	?=14	
N	?=16		?=15	?=17	
O	?=5		?=6	?=4	
P	?=3		?=4	?=2	
Q	?=6		?=5	?=4	
R	?=6		?=8	?=5	
S	?=2		?=3	?=1	
T	?=18		?=20	?=10	

Sæt netop ét **X** i hver række.

Navn _____

QUIZ

LØSNING 10'er venner og talpar LØSNING

A	?=4		?=5		?=10	
B	?=6		?=10		?=12	
C	?=8		?=9		?=7	
D	?=6		?=10		?=8	
E	?=1		?=8		?=9	
F	?=17		?=18		?=19	
G	?=5		?=8		?=4	
H	?=4		?=5		?=6	
J	?=3		?=2		?=4	
K	?=3		?=2		?=1	
L	?=2		?=3		?=5	
M	?=13		?=12		?=14	
N	?=16		?=15		?=17	
O	?=5		?=6		?=4	
P	?=3		?=4		?=2	
Q	?=6		?=5		?=4	
R	?=6		?=8		?=5	
S	?=2		?=3		?=1	
T	?=18		?=20		?=10	

Sæt netop ét **X** i hver række.

LØSNING

Navn _____

Vejledning Quiz

10'er venner og talpar.

Formål:

Opgaven træner 10'er venner og talpar. Eleverne skal finde det manglede tal i 10'er vennerne samt summen af talpar.

På svararket skal det rigtige svar markeres.

1. Inddel eleverne i mindre grupper på 2-3 elever.
2. Fordel kortene (A-T) i et afgrænset område - inde eller ude.
3. Giv hver elev/gruppe et svarark.
4. Afklar hvornår man er færdig. Har man x antal minutter at arbejde i?
Eller er man færdig, når alle opgaver er løst?
5. Lad grupperne arbejde. Det er ikke nødvendigt at løse opgaverne i alfabetisk rækkefølge.
6. Der medfølger et retteark, som kan benyttes til sidst.

Tidsforbrug:

15-45 min

Materialer:

Svar-ark til hver elev

Udprintning af kort (A-T)

Blyanter

Opgave Q3-1kl