

Tulipaner



Hvor mange af hver farve?

Der er ti flere røde end lilla tulipaner.

Der er to tulipaner hvide mere end orange.




Antallet af lilla tulipaner afrundes til 50.

Der er et lige antal gule tulipaner og 17 mere end hvide.

39 41 46 56 58

gul
rød
lilla
hvid
orange



gule _____

lilla _____

orange _____

røde _____

hvide _____

Tulipaner



Hvor mange af hver farve?

Der er ti flere røde end lilla tulipaner.

Der er to tulipaner hvide mere end orange.


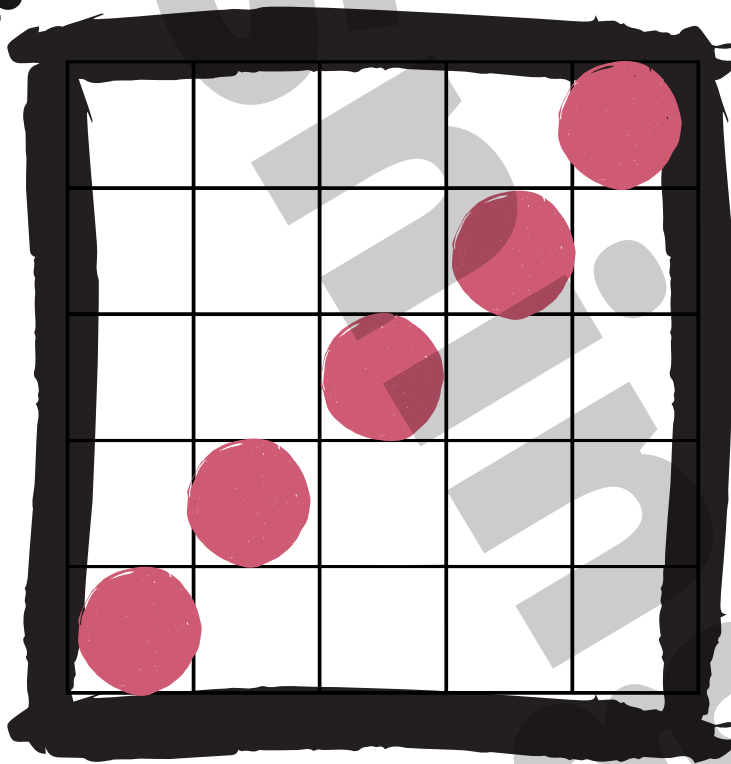


Antallet af lilla tulipaner afrundes til 50.

Der er et lige antal gule tulipaner og 17 mere end hvide.

39 41 46 56 58

gul
rød
lilla
hvid
orange



gule _____
røde _____

lilla _____
hvide _____

orange _____