

Kastanjer



Hvor mange kastanjer samler børnene?



Lisa har samlet tre kastanjer flere end Noah.

Helle har samlet en kastanje mindre end Oskar.

Oskar har samlet det største lige antal kastanjer.

Noah var træet, så han samlede ikke så mange kastanjer.

22

25

33

34

39

Alfred har samlet et ulige antal kastanjer.


Lisa

Helle

Alfred

Noah

Oskar



Lisa _____

Alfred _____

Oscar _____

Helle _____

Noah _____

Kastanjer



Hvor mange kastanjer samler børnene?



Lisa har samlet tre kastanjer flere end Noah.

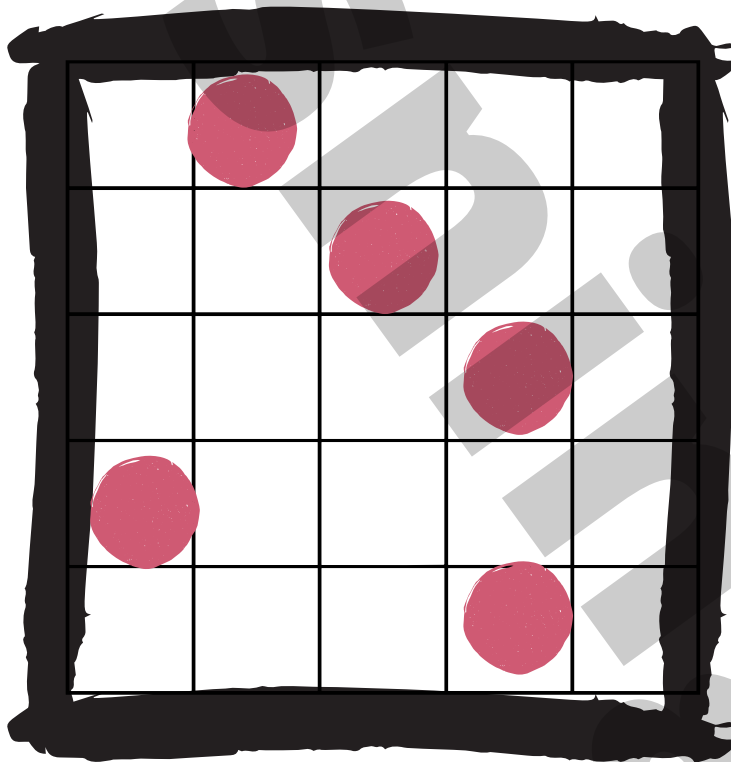
Helle har samlet én kastanje mindre end Alfred.

Oskar har samlet det største lige antal kastanjer.


Noah var træet, så han samlede ikke så mange kastanjer.

22 25 33 34 39

Lisa
Helle
Alfred
Noah
Oskar



Alfred har samlet et ulige antal kastanjer.



Lisa _____

Alfred _____

Oskar _____

Helle _____

Noah _____